


Situations additives

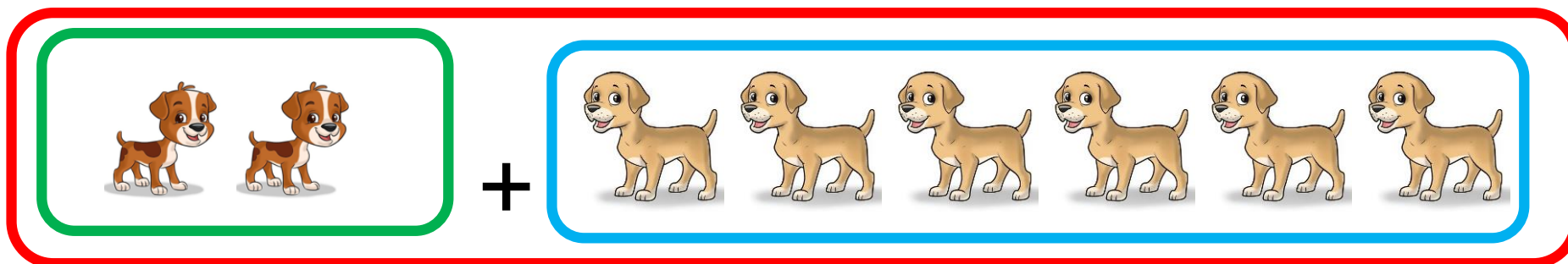
Colle les nombres sous chaque groupe puis compte tous les éléments en ajoutant les deux groupes pour trouver le résultat :




+



=




+




=





$$\square + \square = \square$$



$$\square + \square = \square$$

1	2	3	4	5	6	7	8	9	10	11	12
---	---	---	---	---	---	---	---	---	----	----	----

Bande numérique aide au repérage de l'écriture chiffrée des nombres et au sur-comptage.

Étiquettes à découper au fur et à mesure des besoins :

1	1	1	1	1	9	9	9	9	9
2	2	2	2	2	10	10	10	10	10
3	3	3	3	3	11	11	11	11	11
4	4	4	4	4	12	12	12	12	12
5	5	5	5	5					
6	6	6	6	6					
7	7	7	7	7					
8	8	8	8	8					

